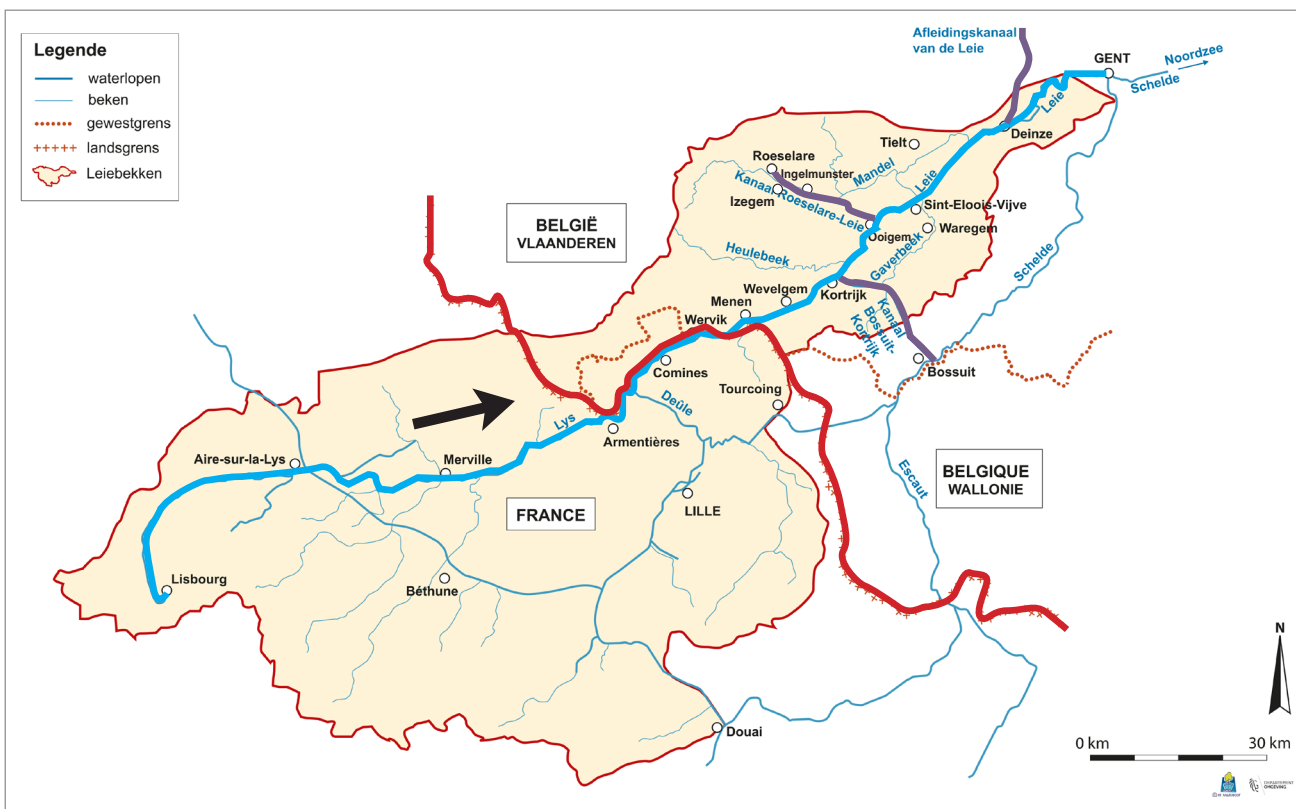



Naam:

Klas:

Opdracht 1: het Leiebekken



Kleur op de kaart de Leie **blauw**. Kleur op de kaart de landgrens **rood**.
Duid met een pijl de stroomrichting van de Leie aan op de kaart.

1a. Waar bevindt zich de bron van de Leie?

Lisbourg. (Frankrijk)

1b. Waar mondt de Leie uit?

in de Schelde (Gent)

3. De Leie stroomt in België door 2 gewesten.
Welke?

Vlaams Gewest

Waa's Gewest

2. De Leie stroomt door 2 landen. Welke?

Frankrijk

België


4. Benoem 3 kanalen in Vlaanderen die in ver-
binding staan met de leie en kleur ze **paars** op
de kaart:

Kanaal Bossuit-Kortrijk

Kanaal Roeselare-Leie

Afdelingskanaal van de Leie

Opdracht 2: varen tussen Roeselare en Ooigem



Bekijk de kaart op pagina 9-4.

Waar begint jullie boottocht? Waar eindigt deze?

Hoe bepaal je de linkeroever van een waterloop?

de oever die zich aan de linkerkant van de waterloop bevindt wanneer je stroomafwaarts (= naar de monding) kijkt

Hoe bepaal je de rechteroever van een waterloop?

de oever die zich aan de rechterkant van de waterloop bevindt wanneer je stroomafwaarts (= naar de monding) kijkt

Duid de rechter- (R) en linkeroever (L) aan op de kaart.

Mijn school is gelegen op de LINKER / RECHTER oever van een waterloop (omcirkel het juiste antwoord).

Kleur de cijfers bij de tekeningen: **groen** voor natuur, **geel** voor bedrijven en **paars** voor ontspanning.

Welke kleur(en) komen het meeste voor? ...geel

Het kanaal Roeselare-Leie wordt dus het meest gebruikt voor (omcirkel het juiste antwoord):

NATUUR (BEDRIJVEN) ONTSPANNING

Het afvalwater van de riolen wordt gezuiverd in een rioolwaterzuiveringsinstallatie.

Sinds ons afvalwater gezuiverd wordt, verbetert de waterkwaliteit van het kanaal en van de Leie.


In welke gemeenten vind je een rioolwaterzuiveringsinstallatie terug?

Tip: kijk hiervoor naar de legende van de kaart.


Rumbeke (Roeselare)

Ingelmunster

Omcirkel deze rioolwaterzuiveringsinstallaties in het bruin.



Opdracht 3: industrie tussen Roeselare en Ooigem



De **industrie** langs het kanaal produceert voornamelijk veevoeder, voedingswaren en beton (producten). Hiernaast zie je enkele logo's van bedrijven. Neem eventueel een kijkje op hun website.



www.molens-vanhollebeke.be - www.quartes.com - www.vandemoortele.com -
www.soubry.be - www.danis.be - www.forfarmershendrix.be

Welke zijn veevoederbedrijven?

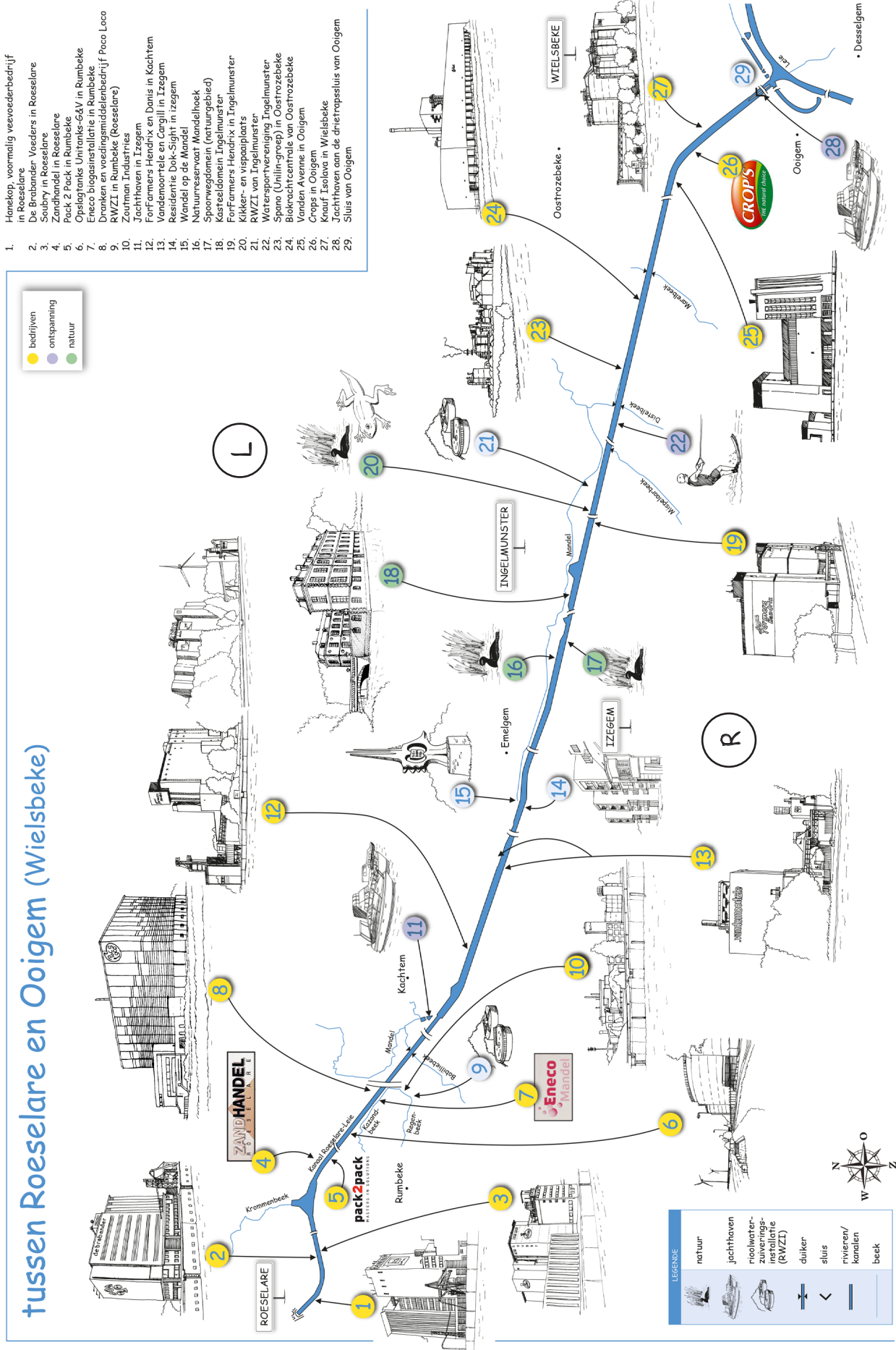
Molens Vanhollebeke, Danis, ForFarmers Hendrix, Quartes

Welke zijn voedingswarenbedrijven?

Soubry, Vandemoortele, Poco Loco

Bedrijven zuiveren zelf hun afvalwater. Dit water wordt niet in het kanaal geloosd, maar wel op de beek die evenwijdig loopt met het kanaal. Geef de naam van deze beek: de Mandel

Varen op het Kanaal Roeselare-Leie tussen Roeselare en Ooigem (Wielsbeke)



1. Harekop, voornamig veevoederbedrijf in Roeselare
2. De Brabander Voeders in Roeselare
3. Soubry in Roeselare
4. Zandhandel in Roeselare
5. Pack 2 Pack in Rumbekke
6. Opslag tanks Unitanks-64V in Rumbekke
7. Eneco biogasinstallatie in Rumbekke
8. Dranken en voedingsmiddelenbedrijf Paco Loco RWZI in Rumbekke (Roeselare)
9. Zoutman Industries
10. Jachthaven in Izegem
11. FortFarmers Hendrix en Danis in Kachtem
12. Vandemoortele en Cargill in Izegem
13. Residentie Dok-Sight in Izegem
14. Wandel op de Mandel
15. Natuurreservaat Mandelhoek
16. Spoorweginfrastructuur (natuurgebied)
17. FortFarmers Hendrix in Ingelmunster
18. Kasteeldomein Ingelmunster
19. Kikker- en vispaaiplaats
20. RWZI van Ingelmunster
21. Watersportvereniging Ingelmunster
22. Spano (Unilin-groep) in Oostrozebeke
23. Biokrachtcentrale van Oostrozebeke
24. Vanden Avenue in Ooigem
25. Groeps in Ooigem
26. Krauf Isolova in Wielsbeke
27. Jachthaven aan de drietrapslus van Ooigem
28. Sluis van Ooigem
- 29.

● bedrijven
⚡ ontspanning
● natuur

LEGENDE
 natuur
 jachthaven
 rioolwater-
zuiverings-
installatie
(RWZI)
 duiker
 sluis
 rivieren/
kanalen
 beek

